


(2020 年全国 I 卷) 36. 阅读图文材料, 完成下列要求。(22 分)

葡萄喜光, 耐旱。图 5 为某坡度较大的地方采用顺坡垄方式种植葡萄的景观。该地位于  $52^{\circ}\text{N}$  附近, 气候湿润。

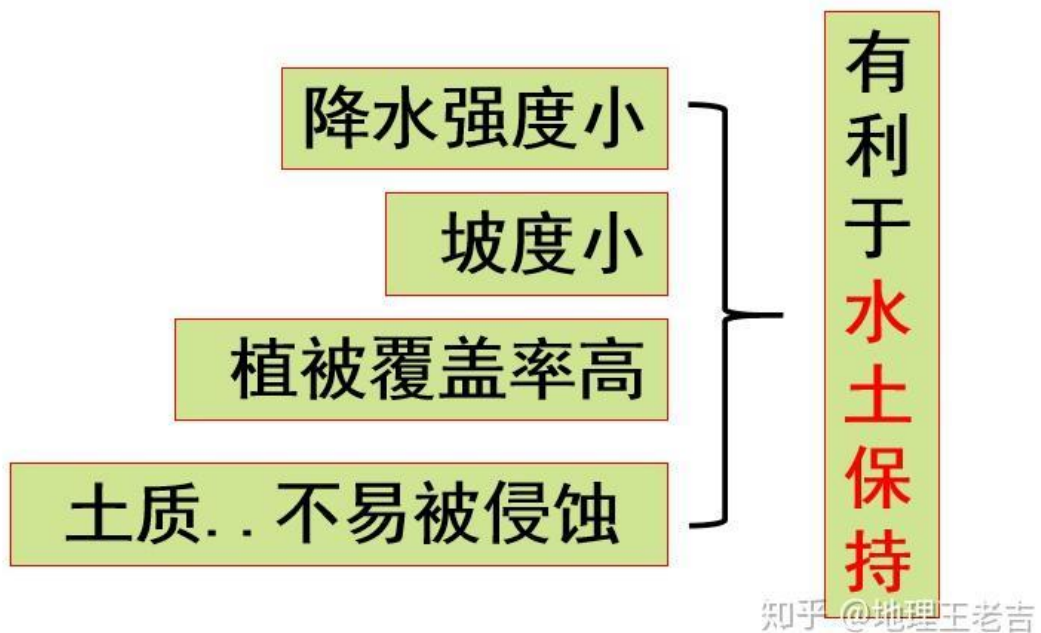


(1) 当地采用顺坡垄种植葡萄, 据此分析该地区的降水特点。(8 分)

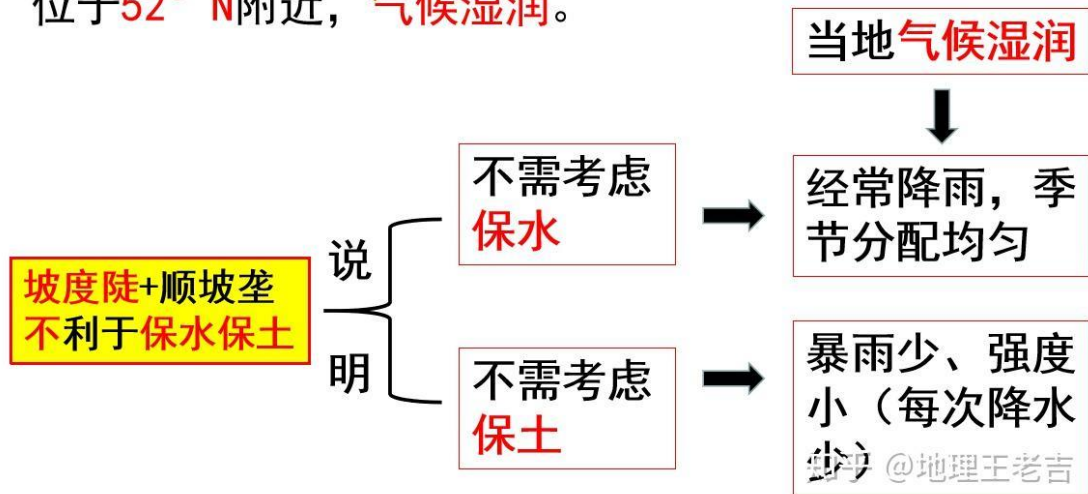


**顺坡植树造林，不利于保水保土** 知乎 @地理王老吉

左边山岭是沿着等高线的方向植树。右边山岭是沿着与等高线垂直的方向植树，所谓之顺坡，坡面径流越流越快，可以毫无阻拦的冲刷坡面，不利于水土保持。



(2020全国卷1) 葡萄喜光，耐旱。图5为某**坡度较大**的地方采用**顺坡垄**方式种植葡萄的景观。该地位于**52° N**附近，**气候湿润**。



答案：(1)顺坡垄不利于保水保土。因此，该地区降水应具有以下特点：降水频率高(经常降雨)，强度小(少暴雨或每次降雨量较小)，降水量季节分配较均匀。